


# SCHNITZELJAGD - MIT DEM FAHRRAD DURCH VAREL (Rundtour, ca. 20 km)



## Und so gehts:

Scanne den ersten QR-Code. Du wirst auf Google Maps weitergeleitet und kannst dort auf "Route" gehen und "Starten". Google Maps schlägt dir eine Route zur ersten Station vor. Wenn du bei Station 1 angekommen bist, beantwortest du die Frage, trägst den Buchstaben in die Lücke mit der Zahl "1" des Lösungssatzes ein, scannst den QR-Code von Station 2 ein und lässt dich wieder navigieren. Diese Schritte wiederholst du bis du bei Station 18 angekommen bist. TIPP: Wenn du die QR-Codes nicht scannen kannst, gebe die Koordinaten bei Google Maps ein. HINWEIS: Bitte schalte deine Ortungsdienste auf deinem Smartphone ein, damit Google Maps dich jeweils von deinem aktuellen Standort zu der nächsten Station navigieren kann.



**Der Start- und Endpunkt liegt beim Weltnaturerbeportal (Edo-Wiemken-Str. 61, 26316 Varel-Dangast).**

## STATION 1 (53.45068, 8.12618)

Was passierte 1866 erstmals in Varel/Dangast?

- (I) Installation des ersten elektrischen Leuchtturms in Varel
- (U) Durchführung des ersten überregionalen Schlickschlittenwettbewerbes in Varel
- (A) Politische Konferenz, in der Vorgespräche zur Einigung Deutschlands geführt wurden, die 1870/71 vollzogen wurde
- (O) Caspar David Friedrich malte in einem seiner letzten Skizzen vor seinem Tod den Blick des Deichgrafen von Dangast auf den Jadebusen
- (Ü) Erstmals machten hier Umweltaktivisten auf sich aufmerksam, indem Sie ein Dampfschiff daran hinderten, in den Vareler Hafen einzufahren
- (E) Erstmalsige Vermessungen zur Bestimmung der Erdoberfläche und der Erdgestalt in Varel

## STATION 2 (53.43828, 8.15200)

Für wie viele Insektenarten bieten die Salzwiesen einen Lebensraum?

- |           |           |           |
|-----------|-----------|-----------|
| (B) 500   | (N) 2.000 | (A) 1.500 |
| (S) 5.000 | (W) 3.200 | (J) 350   |



## STATION 3 (53.42843, 8.16678)

Was steht auf dem Schild am Deich?

- (T) Angebote für Fischbrötchen
- (C) Achtung! Elektrozaun!
- (E) Betreten des Deichs verboten!
- (M) Warnung, Schafe kreuzen!
- (L) Infos über das friesische Wattenmeer
- (I) 5,0 km

## STATION 4 (53.41018, 8.18748)

Wann war die Orkanflut als das Wasser an der Schleuse bei +5.61 m stand?

- |                |                |                |
|----------------|----------------|----------------|
| (R) 26.12.1289 | (A) 31.08.1675 | (E) 13.03.1906 |
| (L) 29.03.1491 | (C) 01.01.1809 | (K) 09.04.1989 |

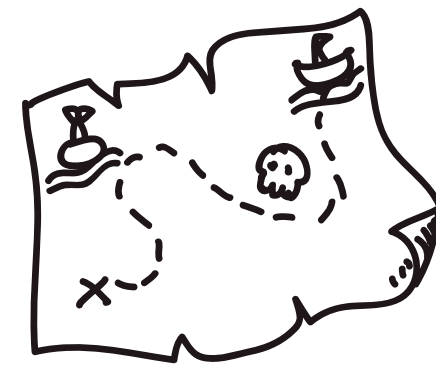




### STATION 5 (53.40773, 8.18070)

Das alte Schleusentor hat eine Bauart auf Schwellrost mit Pfahlgründung mit Ziegelstein und...?

- (E) Werkstein                      (L) Kalkstein                      (F) Granitstein
- (R) Buntsandstein                (A) Muschelkalkstein            (K) Gallenstein



### STATION 6 (53.40643, 8.16553)

Was befindet sich von der Straße aus links neben der kleinsten Kneipe der Welt?

- (A) Der größte Barhocker der Welt
- (E) Ein Anker
- (O) Wrackteile eines vor Varel gestrandeten Schiffes
- (I) Eine Schiffsschraube
- (C) Felsbrocken aus der vorletzten Eiszeit
- (U) Eine Schiffsglocke



### STATION 7 (53.40053, 8.14352)

Wie viele Ecken hat die Windmühle?

- (A) 4 Ecken                      (Ü) 6 Ecken                      (E) 10 Ecken
- (Ä) 5 Ecken                      (I) 8 Ecken                      (O) 14 Ecken



### STATION 8 (53.39690, 8.13628)

In welchem Jahr wurde das Amtsgerichtsgebäude gebaut (Hauptgebäude)?

- (I) 1870                      (A) 1909                      (H) 1949
- (E) 1890                      (R) 1920                      (U) 1989



### STATION 9 (53.39880, 8.13712)

Wann wurde das hier stehende Haus erbaut (Nr. 9a)?

- (K) Im Gründungsjahr von Varel
- (R) 50 Jahre nachdem in Varel erstmalig das passierte, was Sie in Station 1 entdeckt haben
- (S) 100 Jahre nachdem das Wasser in Varel bei +5,61m stand
- (T) 80 Jahre vor dem Mauerfall
- (N) Im gleichen Jahr als das Amtsgericht gebaut wurde
- (P) Nach der Gründung der Bundesrepublik Deutschland



### STATION 10 (53.40335, 8.13580)

In wie viele Bereiche ist das Holz des Tores durch Eisenstreben geteilt?

- (R) 2                      (D) 9                      (B) 14
- (M) 4                      (H) 10                      (G) 16



### STATION 11 (53.40541, 8.13399)

Wie viele Räder sind auf dem Gerät an dem Bahnübergang/ vor dem Wasserhäuschen zu sehen?


- (S) 2                      (T) 8                      (G) 14
- (L) 6                      (N) 11                      (C) 20



### STATION 12 (53.41148, 8.12543)

Welchen Knotenpunkt findest du hier?

- (G) 22
- (F) 15
- (M) 11
- (D) 36
- (L) 12
- (I) 17




### STATION 13 (53.41578, 8.13177)

Wer soll im Mittelweg besonders geschützt werden?

Hinweis: Fahren Sie bitte nicht in den Mittelweg, sondern weiter geradeaus. ;)

- (S) Boßelsportler
- (E) Wildtiere
- (R) Bienen
- (L) Laubbäume
- (J) Kinder bis 6 Jahre
- (A) Reiter



### STATION 14 (53.42147, 8.13082)

Was macht den Wegweiser so kurios?

- (I) die Farbe
- (L) die Schrift
- (R) die Anbringung
- (U) der Straßename
- (M) die Reihenfolge der Buchstaben & Zahlen



### STATION 15 (53.43373, 8.12464)

Auf welche Sportart weisen die Bodenmarkierungen hin (270m, 280m etc.)?

- (W) Schlickschlittenfahren
- (G) Minigolf
- (N) Boßeln
- (T) Nordic-Walking
- (H) Boule
- (R) Federball



### STATION 16 (53.43653, 8.12533)

Welcher Ortsname steht auf dem Schild, das in die gepflasterte Straße zeigt?

- (W) Bremen
- (S) Hohenberge
- (P) Rallenbüschen
- (B) Rosenberg
- (D) Dangastermoor
- (K) Moorhausen



### STATION 17 (53.43875, 8.11937)

Wie viele Fische sind an dem Totem zu sehen?

- (E) 2
- (S) 5
- (L) 10
- (B) 4
- (T) 8
- (G) 14



### STATION 18 (53.44675, 8.11802)

Welche friesische Stadt wird hier beworben?

- (F) Varel
- (D) Jever
- (S) Schortens
- (P) Sande




## DEINE LÖSUNG

Hinweis:

Der Lösungssatz ist auf Plattdeutsch verfasst. Wundere dich daher bitte nicht, wenn er dir auf den ersten Blick unbekannt oder falsch vorkommt und lies ihn ruhig ein zweites Mal. :)

**D** \_ \_ \_ **C** \_ **W** \_ \_ \_ \_ **K** \_ \_ ,  
1 2 6 10 7 11 12 18 3 4 13 15  
\_ **U** \_ **T** **W** \_ \_ \_ **N** .  
14 9 8 17 16 5



Zeige deine Lösung dem Team der Tourist-Info. Du erhältst eine kleinen, aber nützlichen Schatz ;).  
Öffnungszeiten: täglich 10.00 bis 16.00 Uhr

### ZUSATZAUFGABE

Wie lautet dieser Satz auf Hochdeutsch?

---

---

---

Die Stationen wurden zuletzt am 22.08.2023 überprüft.



Tourismus-Service Nordseebad Dangast  
Edo-Wiemken-Str. 61  
26316 Varel-Dangast  
Tel.: 04451 91 14-0



Stadtmarketing Varel GmbH  
Hindenburgstraße 15  
26316 Varel  
Tel.: 04451 126-272

